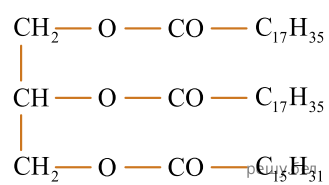
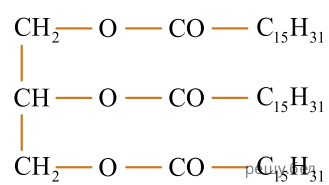


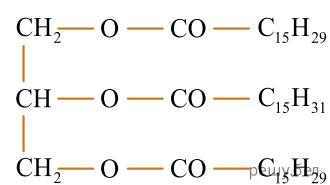
Сравните состав молекул жиров (а—в) и расположите данные вещества по убыванию температуры их плавления:



а)



б)



в)

1) а → б → в;

2) а → в → б;

3) б → в → а;

4) в → б → а.